

به نام خدا

فصل چهارم


آزمون مداد کاغذی ریاضی

سال تحصیلی

کلاس سوم ابتدایی

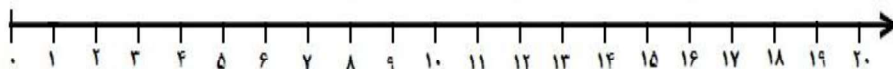
نام و نام خانوادگی:

۱. جدول زیر را کامل کنید.

شکل	جمع	ضرب
		
	$۴+۴+۴+۴+۴=$	
		$۲ \times ۷ =$

۲. ضرب را روی محور نشان داده و پاسخ ضرب را بنویسید.

$$۶ \times ۳ = \dots\dots\dots$$



۳. به سوالات زیر پاسخ دهید.


الف) ۸ هفته چند روز است؟

ب) هر دست قاشق ۶ قاشق دارد. ۹ دست قاشق چند قاشق دارد؟

ج) یک سکه ۳۰ ریالی چند برابر یک سکه ۵ ریالی است؟

د) ۶۳ مداد داریم. اگر آن ها را بین ۹ نفر تقسیم کنیم، به هر نفر چند مداد می رسد؟

۴. برای این شکل، یک ضرب و یک تقسیم بنویسید.



$$\dots\dots \times \dots\dots = \dots\dots$$

$$\dots\dots \div \dots\dots = \dots\dots$$

۵. حاصل ضرب های زیر را بدست آورید.

$$9 \times 8 = \dots\dots\dots$$

$$۶ \times ۶ = \dots\dots\dots$$

$$8 \times 4 = \dots\dots\dots$$

$$۷ \times ۳ = \dots\dots\dots$$

۶. جاهای خالی را کامل کنید.

$$۶ \times ۳ = \dots \times ۶$$


$$(۶ \times ۵) - (۲ \times ۷) = \dots - \dots = \dots$$

$$(۵ \times ۳) + (۸ \times ۱) = \dots + \dots = \dots$$




۷. فاطمه ۲۸ سال دارد. برادرش ۷ ساله است. سن فاطمه چند برابر سن برادرش است.

۸. خطوط موازی هر شکل را هم رنگ کن.



۹. جاهای خالی را پر کن.

۵۴
۴۲



۵



۱۰

۱۰. ۸ بشقاب داریم. در هر بشقاب ۲ سیب و ۴ پرتقال است. در این بشقاب ها چند میوه است؟

۱۱. در الگوی شمارش ۷ تا ۷ تا، از ۰ تا ۴۲ چند عدد است؟

$$۰ - ۷ - \dots - ۴۲$$

باز خورد آموزگار:

